

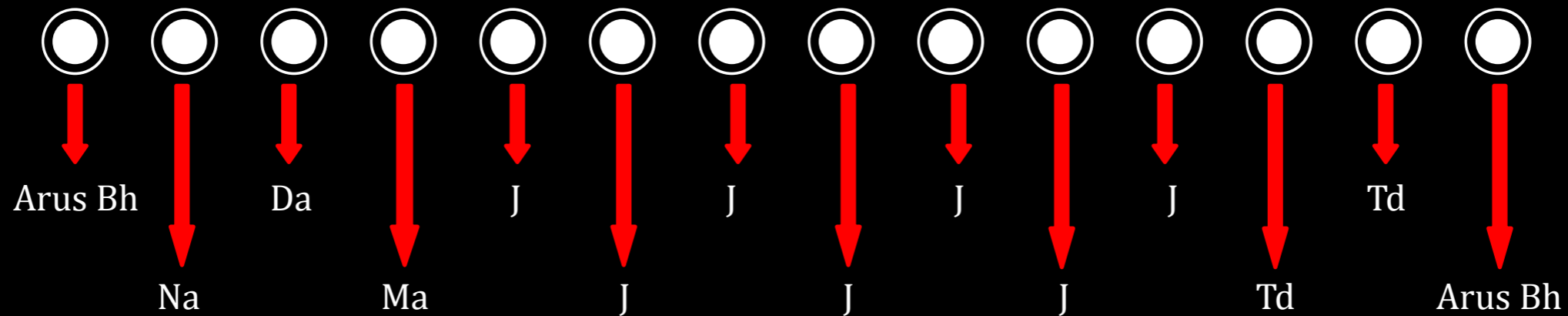


Jawaban Soal-soal
untuk Proses Kognitif (2)

Jawaban Soal-soal Bab IV

1. (a). *Parittajavanavāra manodvāravīthi* dengan proses tersendiri:

Konsep makhluk hidup, sangat menyenangkan



Salah satu dari 2 *somanassa mahākusala ñāṇasampayutta* berfungsi sebagai *javana*.

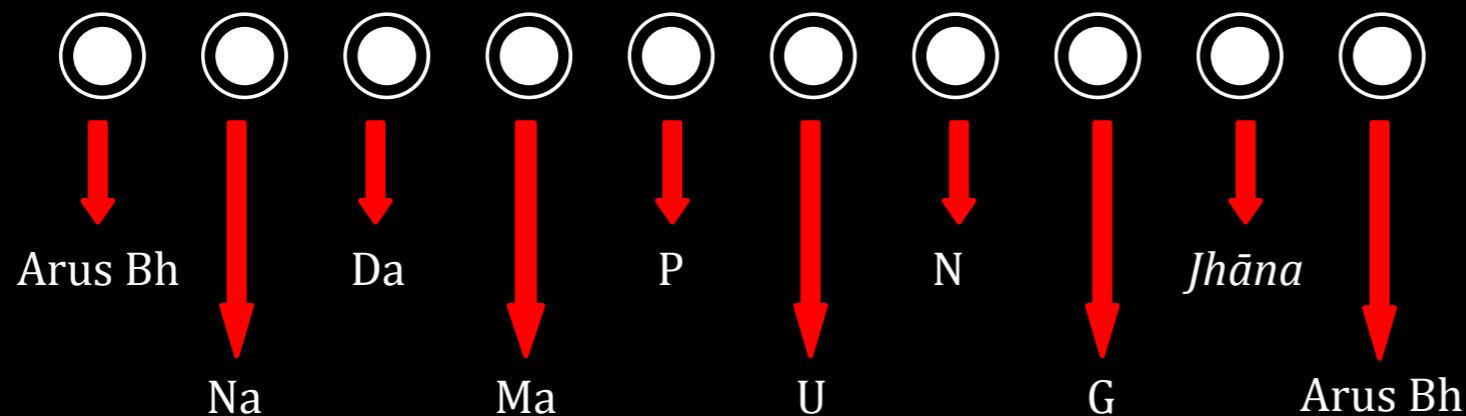
somanas
sa citta
= Td

Jawaban Soal-soal Bab IV

1. (b). Ketika dia mencapai *jhāna* untuk pertama kalinya (*Ādikammika jhānavīthi*) :

- *Manda Puggala*

Paṭibhāga nimitta (konsep makhluk)

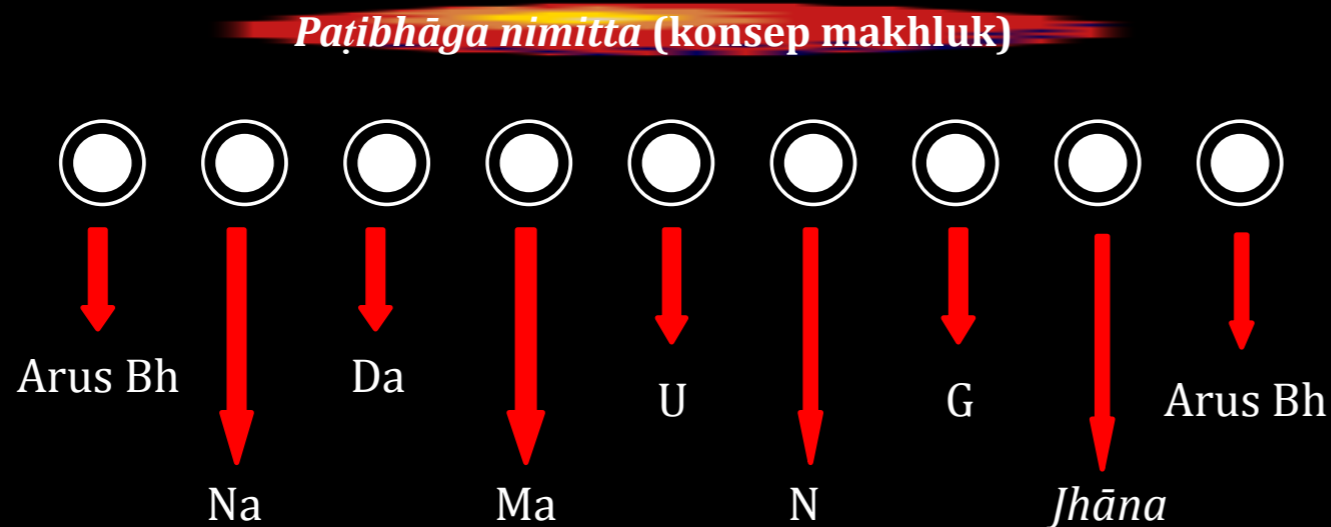


- Salah satu dari dua *mahākusala somanassa ñāṇasampayutta* muncul untuk 4 momen *citta* melakukan fungsi sebagai *upacāra samādhi*: P, U, N, G.
- *Rūpāvacara kusala jhāna* pertama muncul untuk satu momen kesadaran.

Jawaban Soal-soal Bab IV

1. (b). Ketika dia mencapai *jhāna* untuk pertama kalinya (*Ādikammika jhānavīthi*) :

- *Tikkha Puggala*

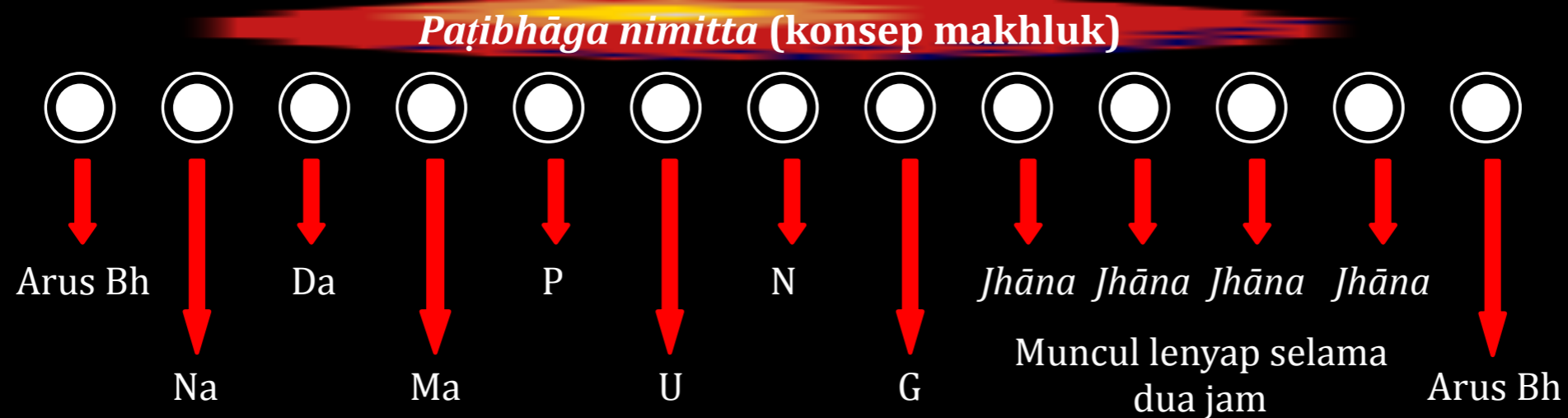


- Salah satu dari dua *mahākusala somanassa ñāṇasampayutta* muncul untuk 3 momen *citta* melakukan fungsi sebagai *upacāra samādhi*: U, N, G.
- *Rūpāvacara kusala jhāna* pertama muncul untuk satu momen kesadaran.

Jawaban Soal-soal Bab IV

1. (c). *Jhānasamāpatti vīthi*:

- *Manda Puggala*

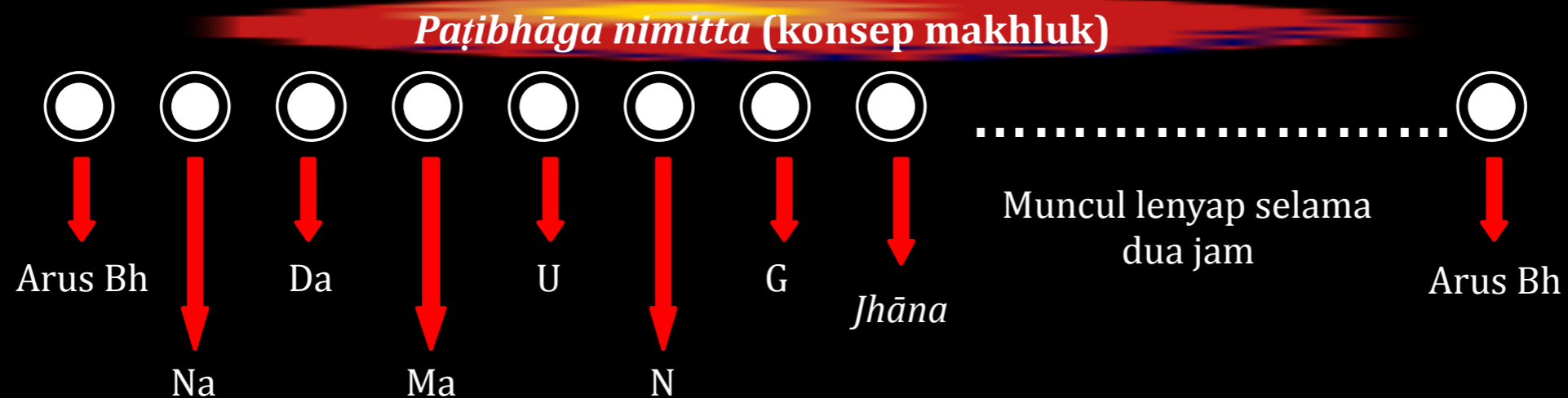


- Salah satu dari dua *mahākusala somanassa ñāṇasampayutta* muncul untuk 4 momen *citta* melakukan fungsi sebagai *upacāra samādhi*: P, U, N, G.
- *Rūpāvacara kusala jhāna* pertama muncul dan lenyap selama dua jam.

Jawaban Soal-soal Bab IV

1. (c). *Jhānasamāpatti vīthi*:

- *Tikkha Puggala*



- Salah satu dari dua *mahākusala somanassa ñāṇasampayutta* muncul untuk 4 momen *citta* melakukan fungsi sebagai *upacāra samādhi*: P, U, N, G.
- *Rūpāvacara kusala jhāna* pertama muncul dan lenyap selama dua jam.

2. Klasifikasikan *appanājavana* yang mengikuti *kāmajavana* seorang *Sakadāgāmī* berdasarkan perasaan yang muncul.

Jawab:

	<i>Jhāna Samāpatti</i>	<i>Abhiññā appanā</i>	<i>Phala samāpatti</i>
<i>Somanassa ñāṇasampayutta</i>	<i>Rūpāvacara kusala jhāna 1 sd 4</i>	X	<i>Sakadāgāmī phala jhāna 1 sd 4</i>
<i>Upekkhā ñāṇasampayutta</i>	<i>Rūpāvacara kusala jhāna 5</i>	<i>Rūpāvacara kusala jhāna 5 spesial</i>	<i>Sakadāgāmī phala jhāna 5</i>

3. Sebutkan *vīthi* yang tidak bisa muncul di arus batin seorang yang tuli sejak lahir. Sebutkan pula *citta* yang tidak bisa muncul di arus batin mereka yang buta sejak lahir.

Jawab:

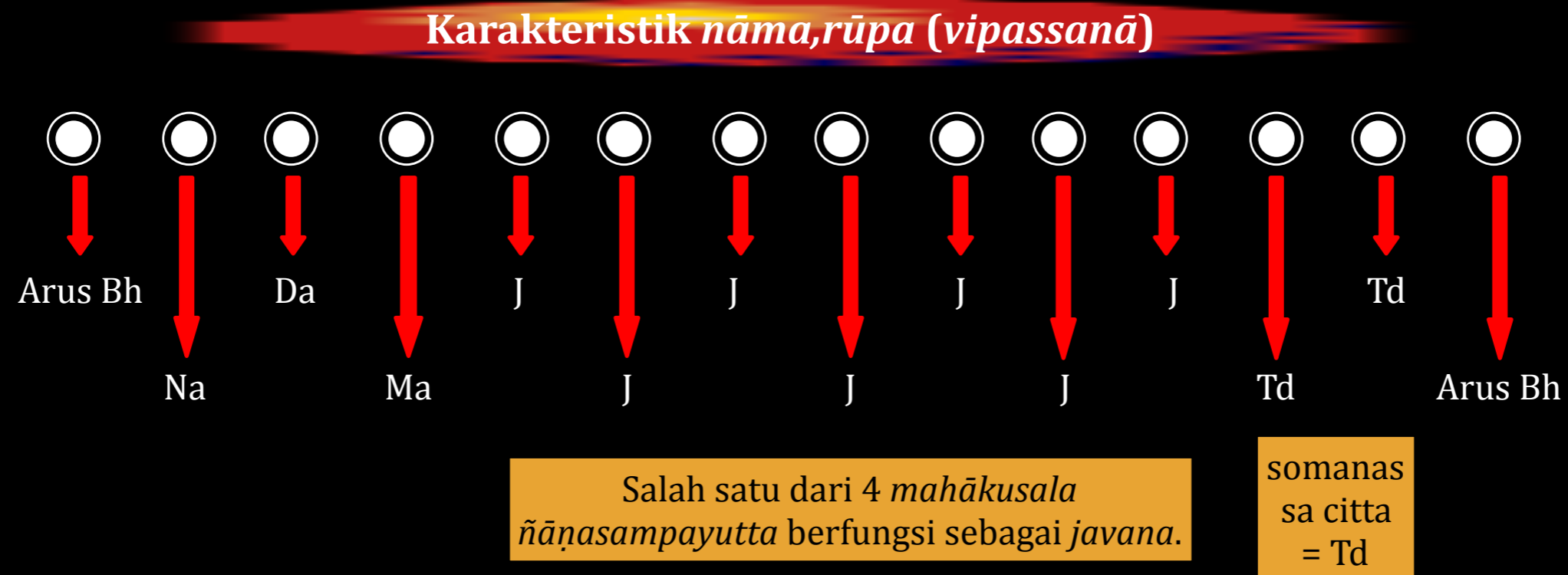
- *Vīthi* yang tidak bisa muncul di arus batin seorang yang tuli sejak lahir adalah *sotadvāravīthi*.
- *Citta* yang tidak bisa muncul di arus batin mereka yang buta sejak lahir adalah *cakkhuvīññāṇa citta*.

4. Jelaskan proses kognitif yang muncul di batin *Anāgāmi*:

(a) Sebelum mencapai tingkat pencerahan tertinggi.

(b) Ketika beliau mencapai tingkat pencerahan yang tertinggi.

Jawab: (a) *Manodvāra vīthi* mengamati karakteristik *nāma, rūpa*:

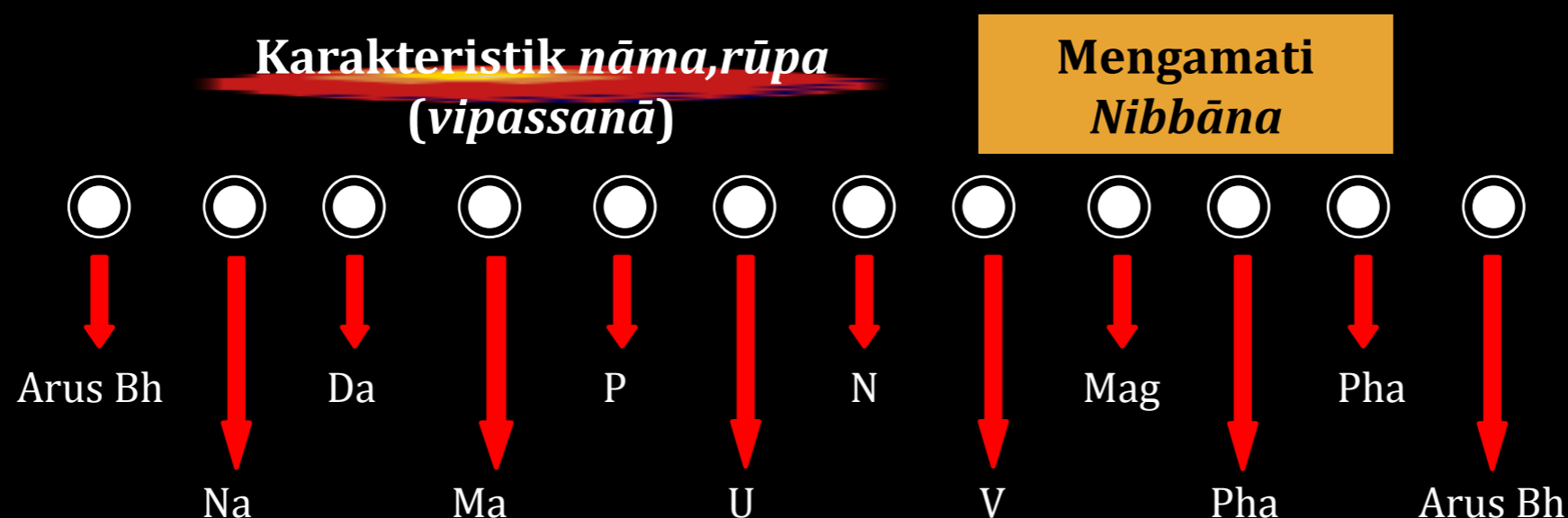


4. Jelaskan proses kognitif yang muncul di batin *Anāgāmi*:

(b) Ketika beliau mencapai tingkat pencerahan yang tertinggi.

Jawab:

- *Manda Puggala*



- Salah satu dari *mahākusala ñāṇasampayutta* muncul sebagai P, U, N mengamati karakteristik *nāma, rūpa*.
- *Vodāna* mengamati *Nibbāna*.
- Mag = *arahattamagga citta* mengamati *Nibbāna*.
- Pha = *arahattaphala citta* mengamati *Nibbāna*.

5. Sebutkan *vīthiccitta* yang bisa muncul di arus batin *brahmā* yang hidup di *Viññāṇañcāyatana bhūmi*.

Jawab:

- *Tihetuka puthujjana*:
 - *Manodvārāvajjana citta*—1
 - *Akusala citta* (kecuali *dosamūla citta*)—10
 - *Mahākusala*—8
 - *Viññāṇañcāyatana kusala citta*—1
 - *Akiñcaññāyatana kusala citta*-1
 - *Nevasaññānāsaññāyatana kusala citta*—1

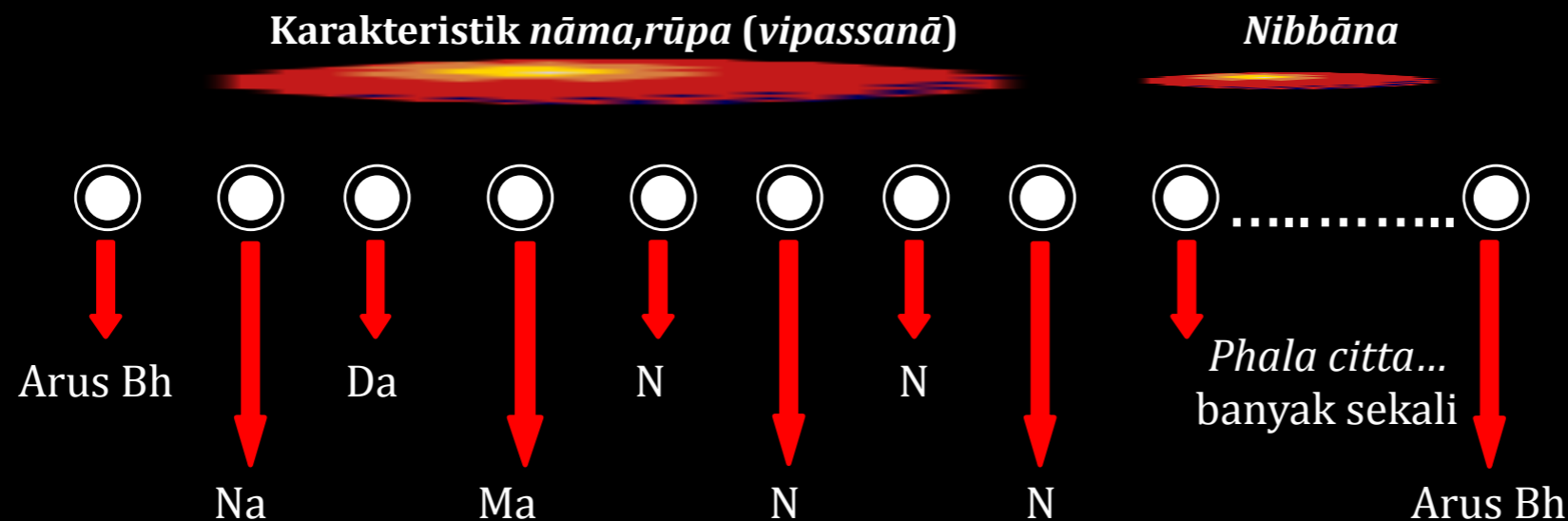
- *Sotāpanna*:
 - *Manodvārāvajjana citta*—1
 - *Diṭṭhigatavippayutta*—4
 - *Uddhacca*—1
 - *Mahākusala*—8
 - *Viññāṇañcāyatana kusala citta*—1
 - *Akiñcaññāyatana kusala citta*-1
 - *Nevasaññānāsaññāyatana kusala citta*—1
 - *Sotāpatti phala citta*—1
- Keterangan: untuk *Sakadāgāmī*, *Anāgāmī* dan *Arahat* dijelaskan di kelas (lihat video rekaman).

6. Sebutkan proses kognitif di arus batin *Arahat* ketika beliau:

(a) Memasuki *phalasangāmi*.

(b) Memasuki *nirodhasangāmi*.

Jawab: (a) *Manda Puggala*:

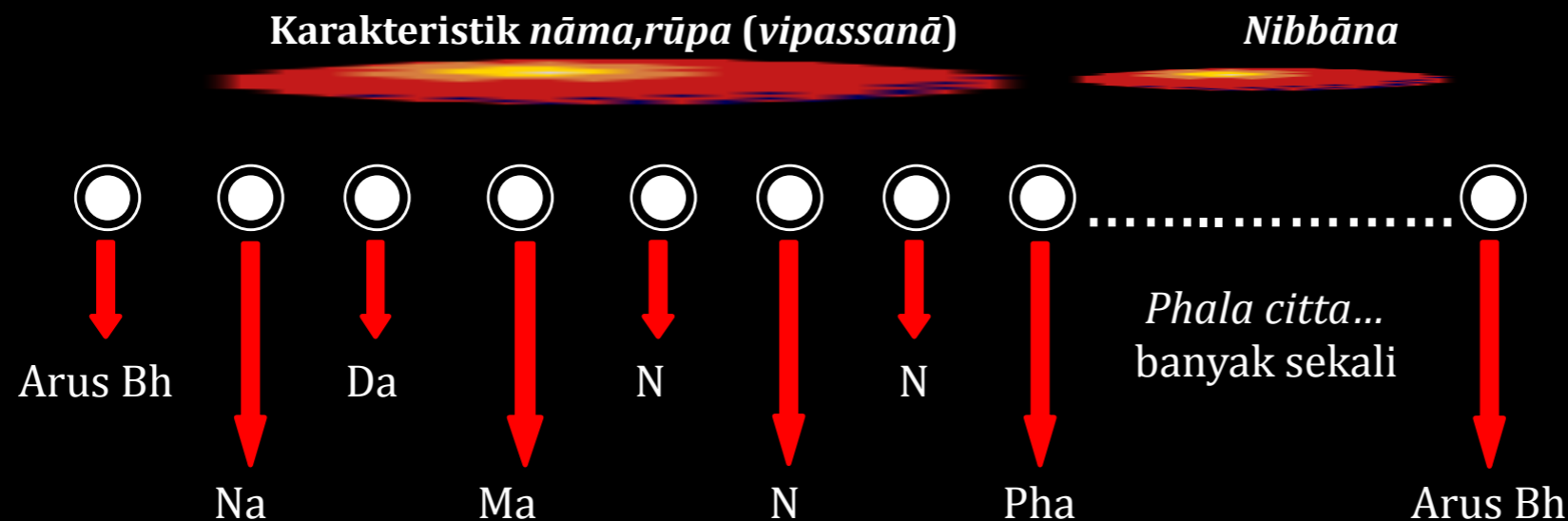


6. Sebutkan proses kognitif di arus batin *Arahat* ketika beliau:

(a) Memasuki *phalasangāmi*.

(b) Memasuki *nirodhasangāmi*.

Jawab: (b) *Tikkha Puggala*:

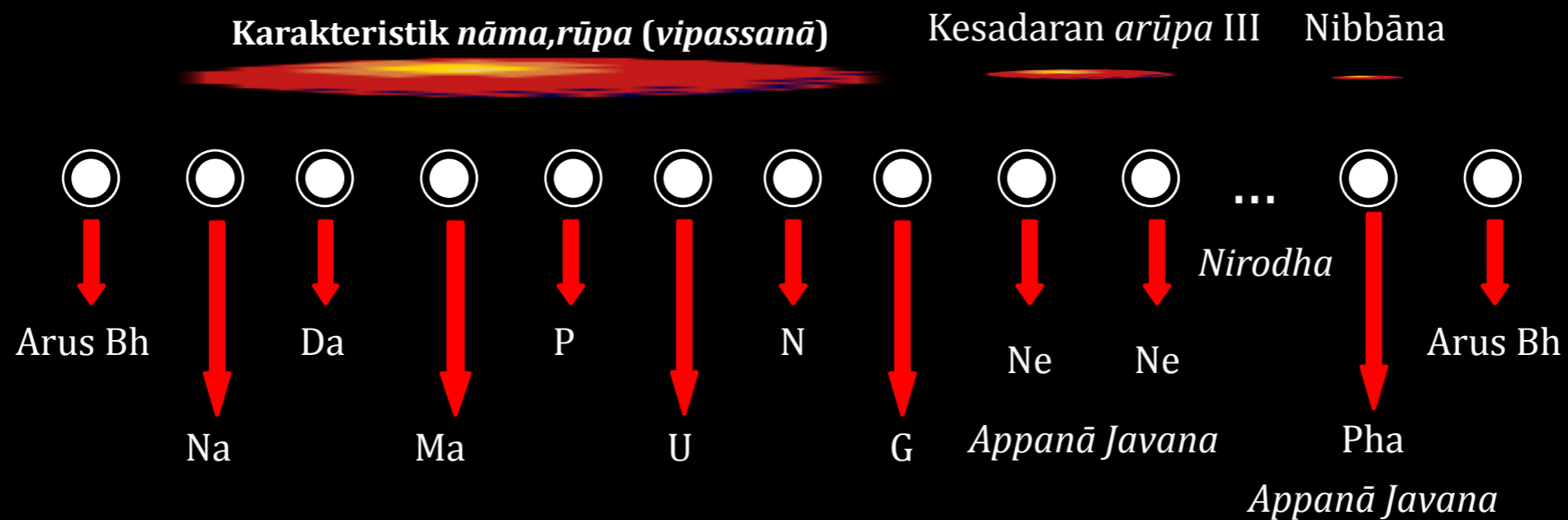


6. Sebutkan proses kognitif di arus batin *Arahat* ketika beliau:

(a) Memasuki *phalasangāmi*.

(b) Memasuki *nirodhasangāmi*.

Jawab: (b) *Manda Puggala*:

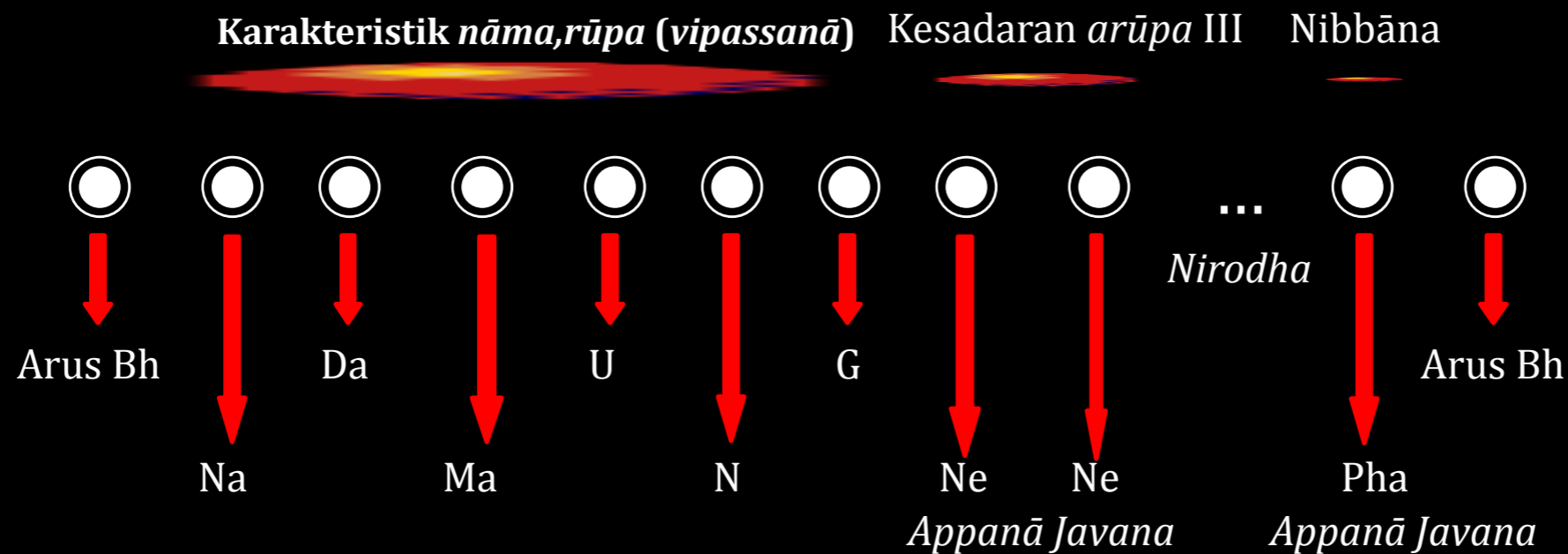


6. Sebutkan proses kognitif di arus batin *Arahat* ketika beliau:

(a) Memasuki *phalasangāmi*.

(b) Memasuki *nirodhasangāmi*.

Jawab: (b) *Tikkha Puggala*:



7. Sebutkan *javana* dan *tadārammaṇa* yang muncul di arus batin

Arahat:

(a) Ketika beliau sedang menikmati makanan yang sangat lezat.

(b) Ketika beliau melihat perilaku tidak baik yang dilakukan oleh seseorang yang jahat.

Jawab:

(a) *Somanassa mahākiriya ñāṇasampayutta*—2 dan *somanassa tadārammaṇa*—5

• *Upekkhā mahākiriya ñāṇasampayutta*—2 dan *upekkhā tadārammaṇa kusala vipāka*—5

• Catatan: ingat *Indriyabhāvanā Sutta* (M 152).

(b) *Mahākiriya upekkhāsahagata ñāṇasampayutta*—2 dan *upekkhā tadārammaṇa akusalavipāka*—1

Selesai